

**Ameryka Płn im Płd Szkoła Podstawowa w Rytwianach Klasa VIII A**

**1** Przyporządkuj czynnikom klimatotwórczym ich skutki.

(.../3 pkt)

- a) Południkowy układ głównych form rzeźby terenu.
- b) Chłodne prądy morskie.
- c) Ciepłe prądy morskie.
  
- A. Ułatwiony przepływ mas powietrza w kierunkach zachodnim i wschodnim.
- B. Zwiększenie sum opadów atmosferycznych na wschodnim wybrzeżu Ameryki Południowej.
- C. Ułatwiony przepływ mas powietrza w kierunkach północnym i południowym.
- D. Zmniejszenie sum opadów atmosferycznych na zachodnim wybrzeżu Ameryki Południowej.

**2** Zaznacz prawidłowe dokończenie zdania.

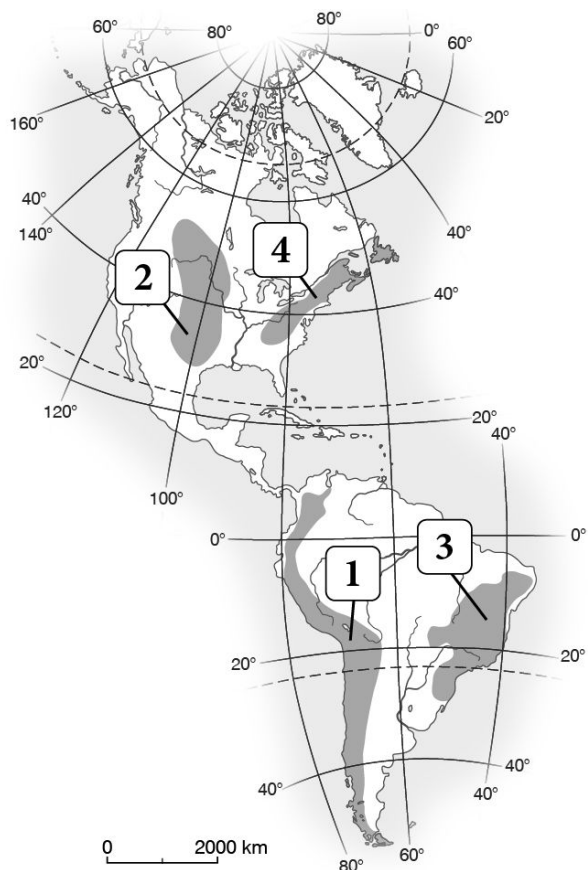
(.../1 pkt)

Wilgotne lasy równikowe porastające Nizinę Amazonki nazywamy

- A. prerią.
- B. tajgą.
- C. pampą.
- D. selwą.

**3** Wybierz zestaw, w którym do miejsc oznaczonych na mapie cyframi przyporządkowano właściwe nazwy form rzeźby terenu.

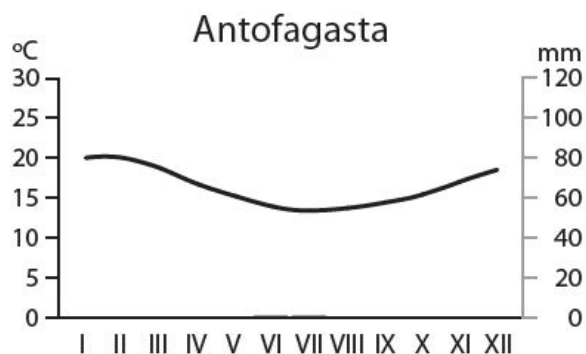
(.../1 pkt)



- A. 1 – Andy, 2 – Wielkie Równiny, 3 – Wyżyna Brazylijska, 4 – Appalachy.
- B. 1 – Kordyliery, 2 – Wielkie Równiny, 3 – Wyżyna Gujańska, 4 – Nizina Zatokowa.
- C. 1 – Andy, 2 – Appalachy, 3 – Wyżyna Brazylijska, 4 – Nizina Atlantycka.
- D. 1 – Góry Skaliste, 2 – Kordyliery, 3 – Nizina Amazonki, 4 – Appalachy.

4 Klimatogram przedstawia dane dla stacji położonej w Ameryce Południowej w strefie klimatu zwrotnikowego.

(.../2 pkt)



Dokończ zdanie. Wybierz odpowiedź A lub B i jej uzasadnienie 1 albo 2.

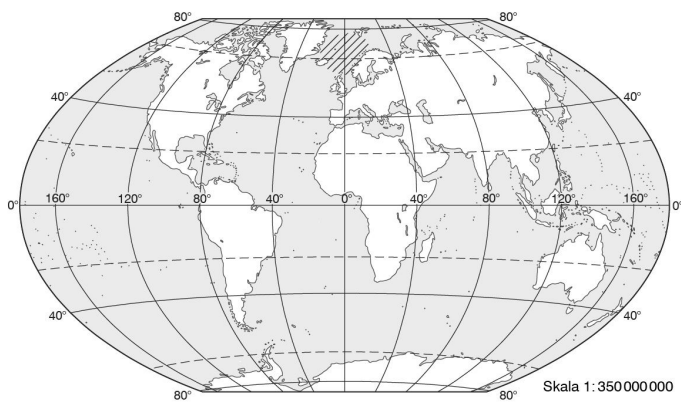
Mała ilość opadów atmosferycznych dowodzi, że stacja jest położona na

<b>A.</b>	wschodnim wybrzeżu kontynentu	w zasięgu oddziaływania	<b>1.</b>	zimnego prądu morskiego
	<b>B.</b>			zachodnim wybrzeżu kontynentu

5 Oceń prawdziwość informacji. Wybierz P, jeśli informacja jest prawdziwa, lub F, jeśli jest fałszywa.

(.../3 pkt)

<b>1.</b>	Huragany mają większy zasięg przestrzenny niż tornada.	<b>P</b>	<b>F</b>
<b>2.</b>	Im dalej od oka cyklonu, tym siła wiatru jest większa.	<b>P</b>	<b>F</b>
<b>3.</b>	W czasie cyklonu tropikalnego występują bardzo intensywne opady deszczu.	<b>P</b>	<b>F</b>



Dokończ zdanie. Wybierz odpowiedź A lub B i jej uzasadnienie 1 albo 2.

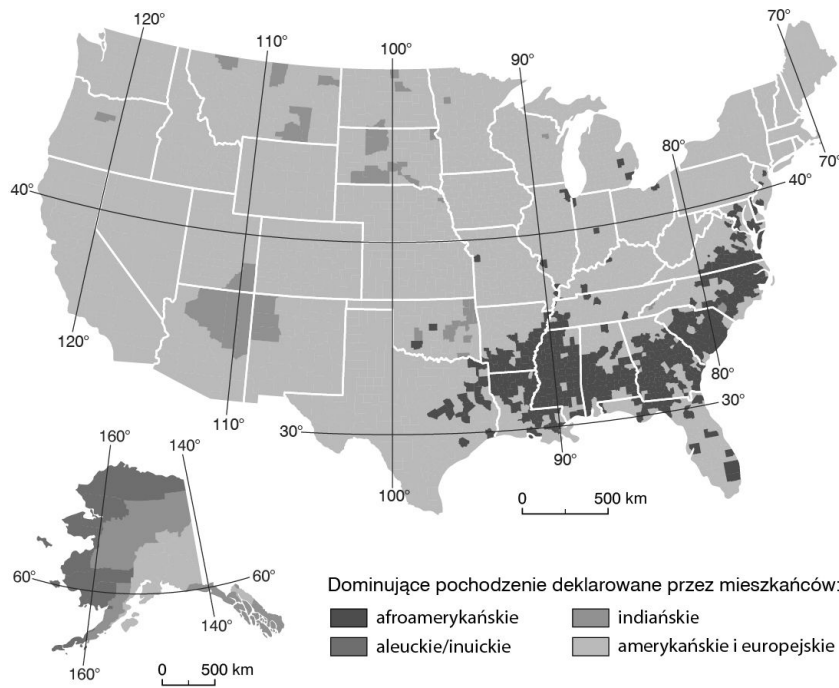
W strefie zaznaczonej na mapie cyklony tropikalne

A.	nie występują,	ponieważ	1.	temperatura wody jest zbyt niska, aby mógł utworzyć się głęboki niż atmosferyczny.
B.	występują,		2.	temperatura wody jest wystarczająca do powstania głębokiego ośrodka niskiego ciśnienia atmosferycznego.

7 Wyjaśnij, w jaki sposób niszczenie lasów równikowych przyczynia się do wzrostu temperatury powietrza na Ziemi.

(.../1 pkt)

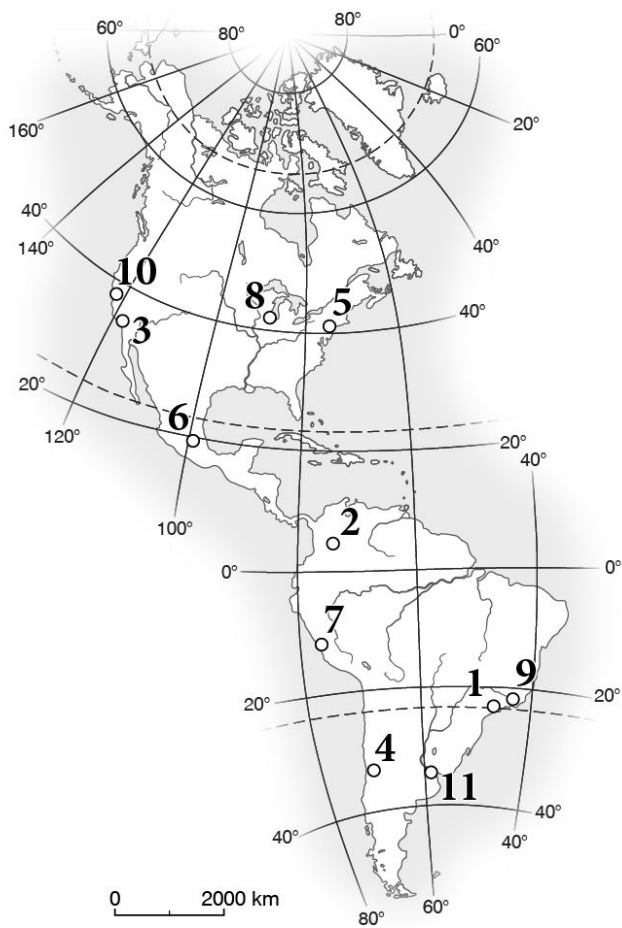
**8** Na mapie przedstawiono zróżnicowanie ludności Stanów Zjednoczonych wg pochodzenia. Oceń prawdziwość informacji. Wybierz P, jeśli informacja jest prawdziwa, lub F, jeśli jest fałszywa.



1.	Wzdłuż granicy z Meksykiem mieszka najwięcej ludności pochodzenia afroamerykańskiego.	<b>P</b>	<b>F</b>
2.	Rdzenna ludność żyje tylko w środkowej części Stanów Zjednoczonych.	<b>P</b>	<b>F</b>
3.	Wzdłuż granicy Stanów Zjednoczonych z Kanadą mieszka głównie ludność pochodzenia Europejskiego.	<b>P</b>	<b>F</b>

**9** Zaznacz właściwe wyjaśnienie terminu „wskaznik urbanizacji”.

- A. Różnica między liczbą ludności miejskiej a liczbą ludności mieszkającej na wsi.
- B. Jest to udział ludności miejskiej w ogólnej liczbie ludności (podawany w procentach).
- C. Jest to stosunek liczby ludności miejskiej do liczby ludności wiejskiej (podawany w promilach).



**Wpisz obok wymienionych miast numery, którymi oznaczono je na mapie.**

Nowy Jork – .....

Rio de Janeiro – .....

Lima – .....

Los Angeles – .....

**11** Na podstawie opisów rozpoznaj obiekty geograficzne i zapisz ich nazwy.

(.../3 pkt)

A. Stolica Stanów Zjednoczonych – .....

B. Stan, który od wschodu graniczy z Kanadą – .....

C. Pierwszy na świecie ośrodek przemysłu zaawansowanych technologii –  
.....